



Guía Fracciones

3° básico

Prof. Raúl Moreno Zavala

Nombre:

Curso: Fecha:

Objetivo: representan de forma pictórica y simbólica fracciones.

1. Lea cada fracción y escríbala con palabras:

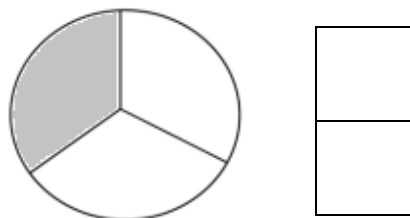
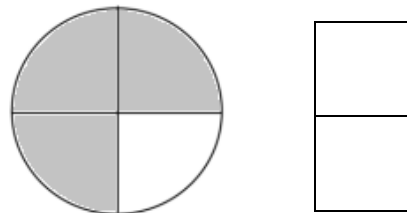
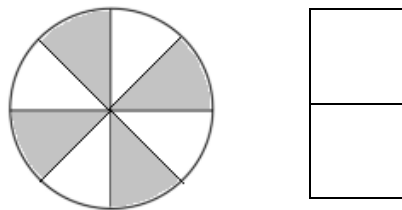
a. $\frac{1}{4}$ _____

b. $\frac{1}{8}$ _____

c. $\frac{3}{4}$ _____

d. $\frac{2}{3}$ _____

2. Indica que fracción se está representando en cada caso.



3. Represente en fracción de un entero y en fracción de un conjunto de elementos.

a. $\frac{1}{3}$

b. $\frac{1}{4}$

c. $\frac{2}{3}$

4. Escoja cuál es la división más adecuada para representar cada fracción. Luego pinte la fracción indicada.


a.

$$\frac{1}{3}$$



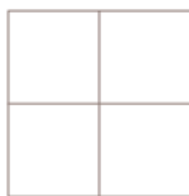
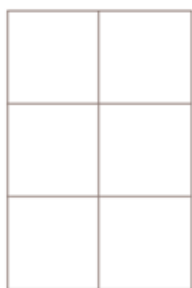
b.

$$\frac{2}{3}$$



c.

$$\frac{4}{6}$$



5. Represente las siguientes fracciones en cada cuadrado para ello dibuje las divisiones correspondientes y pinte según sea la fracción.

a. $\frac{1}{2}$



b. $\frac{1}{3}$



c. $\frac{1}{4}$



d. $\frac{3}{4}$

