






Tarea n°8: "Propiedades de la materia"

Nombre: _____ Fecha: _____ Curso: 4° _____

1. Completa la siguiente tabla con los datos solicitado.

Objeto	¿En qué estado se encuentra?	¿Cuál es el procedimiento para medir su masa?	¿Cómo están dispuestas sus partículas? (Dibujo)
 Cubo de hierro			
 Aire en el globo			
 Agua			

2. Observa la imagen. Luego, responde las preguntas planteadas.



a. ¿Qué propiedad se está midiendo?

.....

b. ¿Cuál es el valor de dicha propiedad?

- a) 50 g
- b) 250 g
- c) 200 g
- d) 300 g

3. Explica brevemente cómo medirías el volumen de un autito de juguete. Indica los materiales que utilizarías y describe el procedimiento.

.....

