

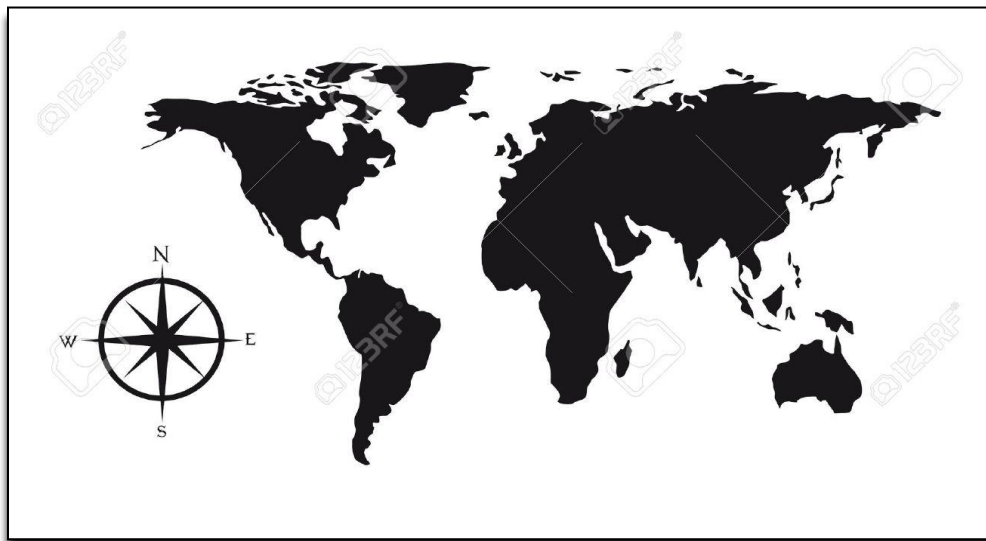


Guía de estudio N°1: "Los puntos cardinales"

Nombre: _____ Fecha: _____ Curso: 3° _____

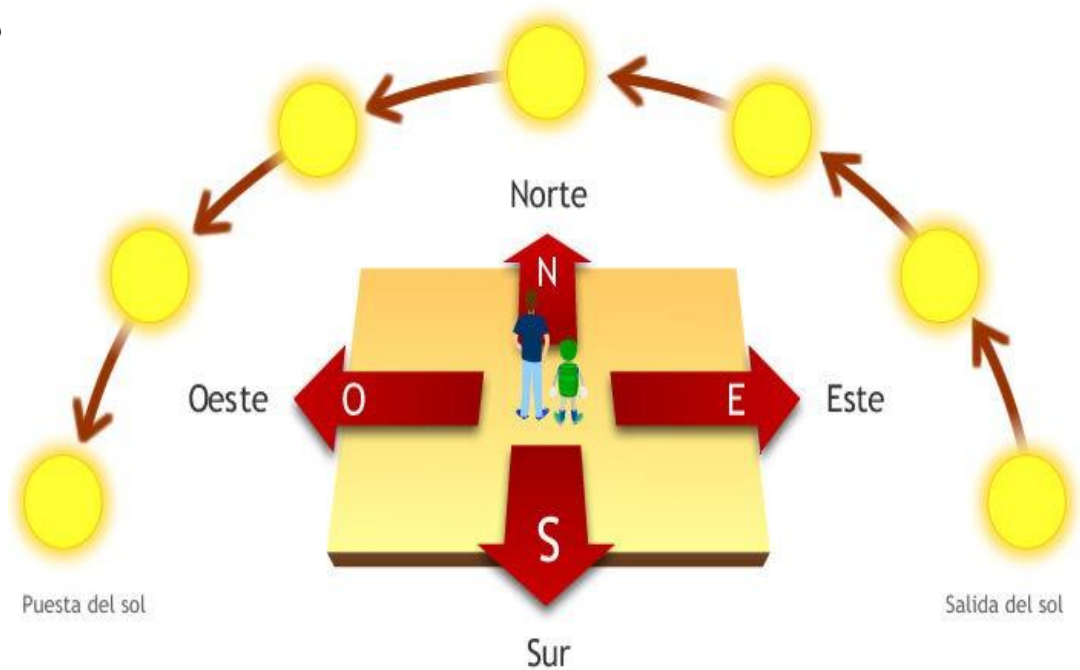
¿Qué son los puntos cardinales?

Son aquellos que sirven para definir dónde estamos y hacia dónde vamos. Existen cuatro puntos principales: Norte (N), Sur (S), Este (E) y Oeste (O). En los mapas, la rosa de los vientos nos indica hacia dónde está el norte para poder orientarnos.



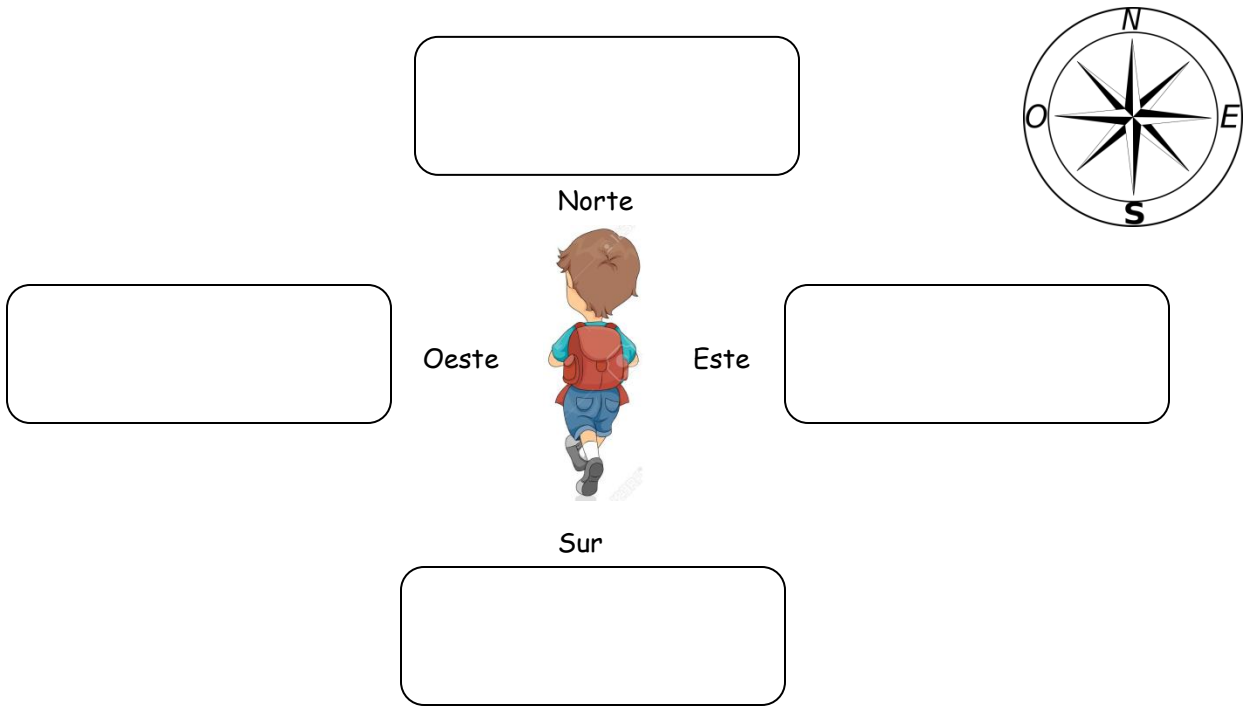
¿Sabías que es muy fácil reconocer los puntos cardinales?

La posición del sol nos puede ayudar a identificar dos, porque el sol se levanta por el este y se esconde por el oeste



¡Juguemos a orientarnos!

1.- Con un grupo de 4 a 5 integrantes dibujen en el suelo la rosa de los vientos. Miren a su alrededor e identifiquen elementos que se ubiquen en los distintos puntos cardinales. Escriban en el recuadro un elemento que se encuentre en el patio del colegio para cada uno de los puntos cardinales.



2.- Reúnete con un compañero o compañera y entrégale las indicaciones para que complete su hoja. Tú también debes seguir las instrucciones que él o ella te dé.

- 1.- Dibuja la rosa de los vientos al centro de la hoja
- 2.- Dibuja un perro al este de la hoja.
- 3.- Dibuja una (elige tú) _____ al norte de la hoja.
- 4.- Dibuja un (elige tú) _____ al sur de la hoja
- 5.- Dibuja una (elige tú) _____ oeste de la hoja
- 6.- Dibuja un (elige tú) _____ al (elige tú) _____ de la hoja
(norte, sur, este u oeste)



¡Al terminar intercambien sus guías y revísenlas!